

This Question Paper consists of 51 questions and 18 printed pages + 1 outline map of India.  
इस प्रश्न-पत्र में 51 प्रश्न तथा 18 मुद्रित पृष्ठ + भारत का एक रेखा-मानचित्र है।

Code No. 70/MAY/3  
कोड नं.

Roll No.  
अनुक्रमांक

2	7	0	5	2	1	2	4	2	5	2	9
---	---	---	---	---	---	---	---	---	---	---	---

Set/सेट **A**

**SOCIAL SCIENCE**  
**(सामाजिक विज्ञान)**  
**(213)**

Serial No.

111014

Day and Date of Examination :

(परीक्षा का दिन व दिनांक)

Signature of Invigilators : 1. *Rishi*  
(निरीक्षकों के हस्ताक्षर)

2. \_\_\_\_\_

General Instructions :

1. Candidate must write his/her Roll Number on the first page of the Question Paper.
2. Please check the Question Paper to verify that the total pages and the total number of questions contained in the Question Paper are the same as those printed on the top of the first page. Also check to see that the questions are in sequential order.
3. For the objective type of questions, you have to choose any one of the four alternatives given in the questions i.e. (A), (B), (C) or (D) and indicate your correct answer in the Answer-Book given to you.
4. All the questions including objective-type questions are to be answered within the allotted time and no separate time limit is fixed for answering objective-type questions.
5. Making any identification mark in the Answer-Book or writing Roll Number anywhere other than the specified places will lead to disqualification of the candidate.
6. Candidate will not be allowed to take Calculator, Mobile Phone, Bluetooth, Earphone or any such electronic devices in the Examination Hall.
7. In case of any doubt or confusion in the question paper, the English Version will prevail.
8. Write your Question Paper Code No. 70/MAY/3, Set - **A** on the Answer-Book.
9. (a) The Question Paper is in English/Hindi medium only. However, if you wish, you can answer in any one of the languages listed below :  
English, Hindi, Urdu, Punjabi, Bengali, Tamil, Malayalam, Kannada, Telugu, Marathi, Oriya, Gujarati, Konkani, Manipuri, Assamese, Nepali, Kashmiri, Sanskrit and Sindhi.  
You are required to indicate the language you have chosen to answer in the box provided in the Answer-Book.  
(b) If you choose to write the answer in the language other than Hindi and English, the responsibility for any errors/mistakes in understanding the question will be yours only.

70/MAY/3-213-A]

G-1008

1



[Contd.....

**Unnati Educations**  
**9899436384, 9654279279**

# SOCIAL SCIENCE

(सामाजिक विज्ञान)

(213)

Time : 3 Hours]

समय : 3 घण्टे]

[Maximum Marks : 100

[पूर्णांक : 100

- Note: (i) This Question Paper consists of 51 questions in all.  
(ii) All questions are compulsory.  
(iii) Marks are given against each question.  
(iv) Section – A consists of  
(a) Q. No. 1 to 20 – Multiple Choice Type Questions (MCQs) carrying 1 mark each. Select and write the most appropriate option out of the four options given in each of these questions. Alternative questions are given in lieu of Question No. 7 to 10 for Visually Impaired Candidates Only.  
(b) Q. No. 21 to 35 – Objective type questions carrying 2 marks each (with 2 sub parts of 1 mark each and 4 sub parts of 1/2 mark each). Attempt these questions as per the instructions given for each of the questions.  
(v) Section – B consists of  
(a) Q. No. 36 to 41 – Very Short answer type questions carrying 2 marks each to be answered in the range of 30 to 50 words. Attempt these questions as per the instructions given for each of the questions.  
(b) Q. No. 42 to 47 – Short Answer type questions carrying 3 marks each to be answered in the range of 50 to 80 words.  
(c) Q. No. 48 and 49 – Skill (Map) based questions carrying 4 marks each. (Alternative questions are given in lieu of map based questions for Visually Impaired Candidates.)  
(d) Q. No. 50 and 51 – Long Answer type questions carrying 6 marks each to be answered in the range of 80 to 120 words.  
(e) An internal choice has been provided in some of these questions. You have to attempt only one of the given choices in such questions.

- निर्देश: (i) इस प्रश्न-पत्र में कुल 51 प्रश्न हैं।  
(ii) सभी प्रश्न अनिवार्य हैं।  
(iii) सभी प्रश्नों के अंक उनके साथ दिये गये हैं।  
(iv) खण्ड – अ के प्रश्न में सम्मिलित हैं  
(a) प्रश्न संख्या 1 से 20 तक 1 अंक वाले बहुविकल्पीय प्रकार के प्रश्न (MCQs) हैं। दिए गए चार विकल्पों में से सर्वाधिक उपयुक्त विकल्प को चुनें तथा लिखें। दृष्टिबाधित छात्रों हेतु प्रश्न संख्या 7 से 10 के स्थान पर वैकल्पिक प्रश्न दिये गये हैं।  
(b) प्रश्न संख्या 21 से 35 तक 2 अंक वाले वस्तुनिष्ठ प्रकार के प्रश्न हैं। (इनमें से कुछ प्रश्नों में प्रत्येक 1 अंक के 2 उप-भागों के साथ और 4 उप-भागों के प्रत्येकी 1/2 अंक)। इन प्रश्नों का उत्तर प्रश्नों के साथ दिए गए निर्देशों के अनुसार दीजिए।  
(v) खण्ड – ब के प्रश्न में सम्मिलित हैं  
(a) प्रश्न संख्या 36 से 41 तक 2 अंक वाले अति लघु-उत्तरीय प्रकार के प्रत्येक प्रश्न का उत्तर 30 से 50 शब्दों में दीजिए। इन प्रश्नों का उत्तर प्रश्नों के साथ दिये गये निर्देशों के अनुसार दें।  
(b) प्रश्न संख्या 42 से 47 तक 3 अंक वाले लघु-उत्तरीय प्रकार के प्रत्येक प्रश्न का उत्तर 50 से 80 शब्दों में दें।  
(c) प्रश्न संख्या 48 एवं 49 – कौशल (मानचित्र) पर आधारित 4 अंक वाले प्रश्न हैं। (दृष्टिबाधित छात्रों हेतु मानचित्र पर आधारित प्रश्नों के स्थान पर वैकल्पिक प्रश्न दिये गये हैं।  
(d) प्रश्न संख्या 50 एवं 51 – 6 अंक वाले दीर्घ-उत्तरीय प्रकार के प्रत्येक प्रश्न का उत्तर 80 से 120 शब्दों में दें।  
(e) कुछ प्रश्नों में आंतरिक चयन की सुविधा दी गयी है। आपको दो विकल्पों में से केवल एक प्रश्न करना है।



**SECTION-A**

**खण्ड - 'अ'**

1. Who among the following Invented the Flying shuttle? [1]  
(A) James Hargreaves (B) John Kay's  
(C) Ark Right (D) Samuel Slater  
निम्नलिखित में से किसने उड़ने वाले शटल का आविष्कार किया था?  
(A) जेम्स हरग्रीवस (B) जॉन केयस  
(C) आर्क राइट (D) सैमुएल स्लेटर
2. Who amongst the following was the leader of Nazism in Germany? [1]  
(A) Benito Mussolini (B) Adolf Hitler  
(C) Frederick Wilson (D) Otto von Bismarck  
निम्नलिखित में से जर्मनी में नाज़ीवाद का नेता कौन था?  
(A) बेनितो मुसोलिनी (B) एडोल्फ हिटलर  
(C) फ्रेडरिक विल्सन (D) ओटो वॉन बिस्मार्क
3. In which of the following years 'League of Nation' was set up? [1]  
(A) 1935 (B) 1940  
(C) 1920 (D) 1910  
निम्नलिखित में से किस वर्ष लीग ऑफ नेशंस की स्थापना की गयी थी?  
(A) 1935 (B) 1940  
(C) 1920 (D) 1910
4. In which one of the following years was Muslim League founded in India? [1]  
(A) 1910 (B) 1915  
(C) 1906 (D) 1903  
निम्नलिखित में से भारत में ऑल इंडिया मुस्लिम लीग की स्थापना किस वर्ष में हुई?  
(A) 1910 (B) 1915  
(C) 1906 (D) 1903



[Contd.....

5. Who amongst the following gave the slogan - "Freedom is my birthright and I shall have it"?

(A) Lala Lajpat Rai

(C) Bal Gangadhar Tilak

(B) Vipin Chandra Pal

(D) Mahatma Gandhi

निम्नलिखित में से किसने नारा दिया था - "स्वतंत्रता मेरा जन्मसिद्ध अधिकार है और मैं इसे लेकर लूँगा"।

(A) लाला लाजपत राय

(C) बाल गंगाधर तिलक

(B) विपिन चन्द्र पाल

(D) महात्मा गाँधी

6. In which one of the following years the process of unification of Italy began?

(A) 1915

(C) 1715

(B) 1815

(D) 1615

निम्नलिखित में से किस वर्ष इटली के एकीकरण की प्रक्रिया शुरू हुई?

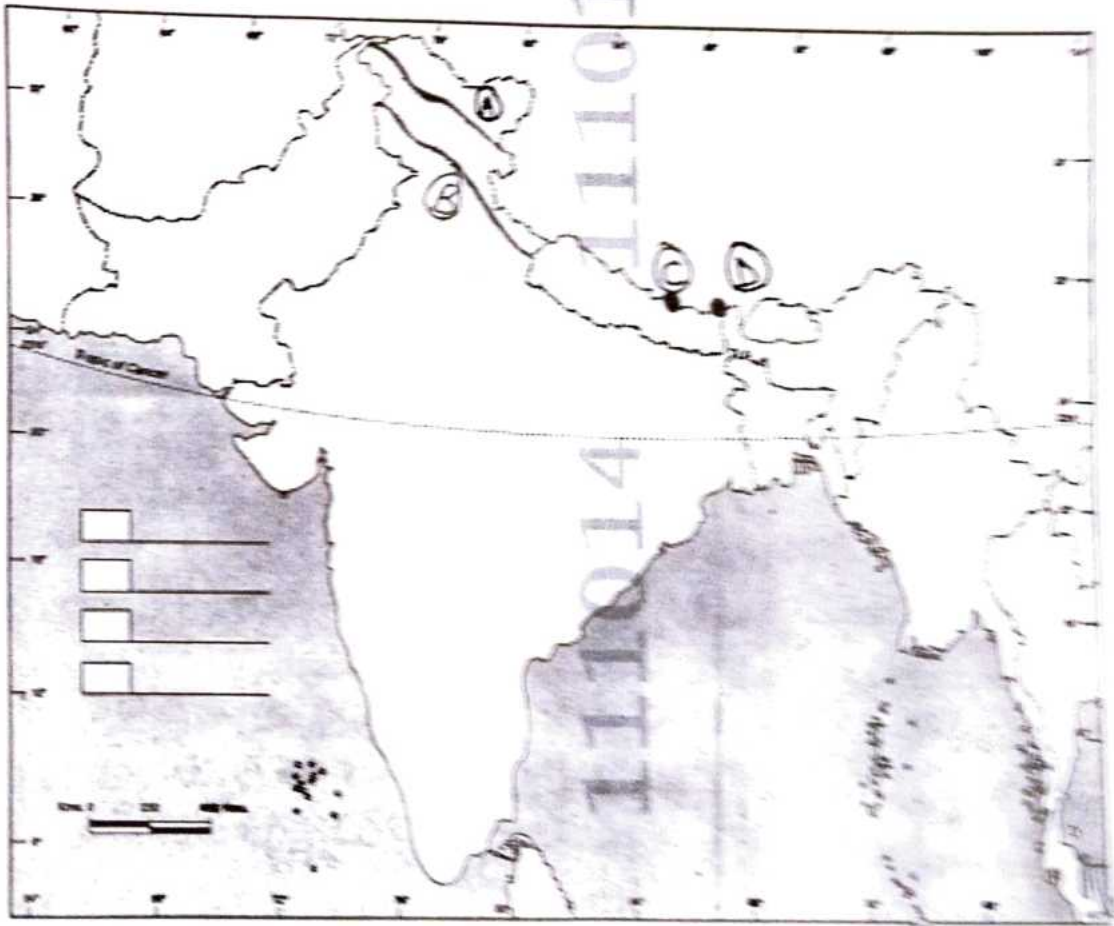
(A) 1915

(C) 1715

(B) 1815

(D) 1615

Study the given map and answer the question number 7 to 10.  
दिए गए मानचित्र का अध्ययन कीजिए और प्रश्न संख्या 7 से 10 तक का उत्तर दीजिए।



5. Who amongst the following gave the slogan - "Freedom is my birthright and I shall have it"? [1]

(A) Lala Lajpat Rai

(B) Vipin Chandra Pal

(C) Bal Gangadhar Tilak

(D) Mahatma Gandhi

निम्नलिखित में से किसने नारा दिया था - "स्वतन्त्रता मेरा जन्मसिद्ध अधिकार है और मैं इसे लेकर रहूँगा"।

(A) लाला लाजपत राय

(B) विपिन चन्द्र पाल

(C) बाल गंगाधर तिलक

(D) महात्मा गाँधी

6. In which one of the following years the process of unification of Italy began? [1]

(A) 1915

(B) 1815

(C) 1715

(D) 1615

निम्नलिखित में से किस वर्ष इटली के एकीकरण की प्रक्रिया शुरू हुई?

(A) 1915

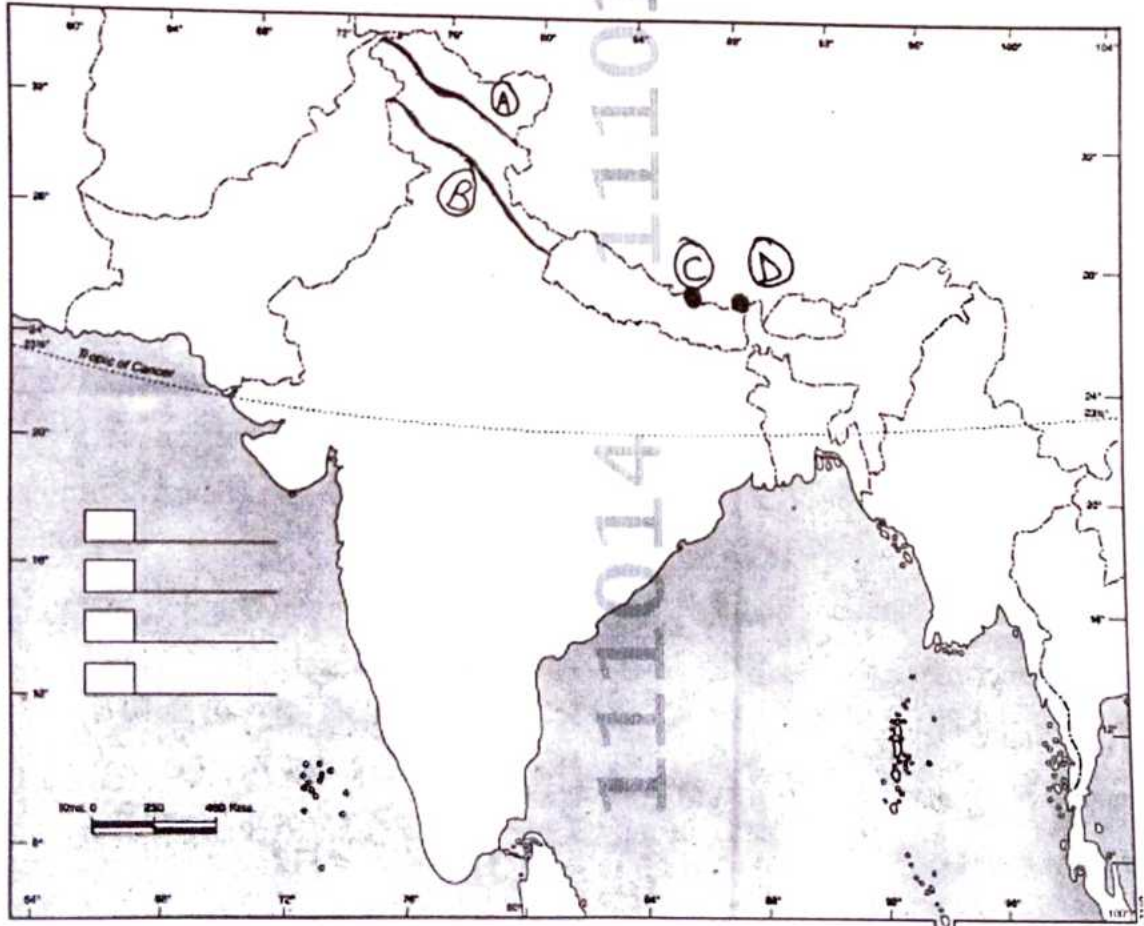
(B) 1815

(C) 1715

(D) 1615

Study the given map and answer the question number 7 to 10.

दिए गए मानचित्र का अध्ययन कीजिए और प्रश्न संख्या 7 से 10 तक का उत्तर दीजिए।



7. Identify the mountain range marked as 'A' in the map. [1]

- (A) Zaskar Range (B) Pir Panjal Range  
(C) Karakoram Range (D) Shivalik Range

मानचित्र में 'A' के रूप में चिह्नित पर्वत श्रृंखला की पहचान कीजिए।

- (A) जांस्कर श्रेणी (B) पीर पंजाल श्रेणी  
(C) काराकोरम श्रेणी (D) शिवालिक श्रेणी

8. Identify the mountain range marked as 'B' in the map. [1]

- (A) Zaskar Range (B) Ladakh Range  
(C) Pir Panjal Range (D) Karakoram Range

मानचित्र में 'B' के रूप में चिह्नित पर्वत श्रृंखला की पहचान कीजिए।

- (A) जांस्कर श्रेणी (B) लद्दाख श्रेणी  
(C) पीर पंजाल श्रेणी (D) काराकोरम श्रेणी

9. Identify the mountain peak marked as 'C' in the map. [1]

- (A) Kanchenjunga (B) Mount Everest  
(C) Makalu (D) Annapurna

मानचित्र में 'C' के रूप में चिह्नित पर्वत शिखर की पहचान कीजिए।

- (A) कंचनजंगा (B) माउंट एवरेस्ट  
(C) मकालू (D) अन्नपूर्णा

10. Identify the mountain peak marked as 'D' in the map. [1]

- (A) Kanchenjunga (B) Namcha Barwa  
(C) Nanda Devi (D) Dhaulagiri

मानचित्र में 'D' के रूप में चिह्नित पर्वत शिखर की पहचान कीजिए।

- (A) कंचनजंगा (B) नामचा बरवा  
(C) नंदा देवी (D) धौलगिरी



Note : Following questions are for the Visually Impaired Candidates only in lieu of Q. No. 7 to 10.

नोट : निम्नलिखित प्रश्न केवल दृष्टिबाधित परिक्षार्थियों के लिए प्रश्न संख्या 7 से 10 के स्थान पर है।

7. Which is the outer most range of the Himalayas? [1]  
(A) Karakoram Range (B) Ladakh Range  
(C) Shivalik Range (D) Zaskar Range  
हिमालय की सबसे बाह्य पर्वत श्रेणी कौन-सी है?  
(A) काराकोरम पर्वत श्रेणी (B) लद्दाख श्रेणी  
(C) शिवालिक श्रेणी (D) जांस्कर श्रेणी
8. In how many parallel ranges the Himalayas are divided into? [1]  
(A) Three (B) Two  
(C) Four (D) Five  
हिमालय को कितनी समानान्तर पर्वत श्रेणियों में विभाजित किया जाता है?  
(A) तीन (B) दो  
(C) चार (D) पाँच
9. Which is the highest peak of Himalayas in India? [1]  
(A) Kanchenjunga (B) Makalu  
(C) Nanga Parbat (D) Dhaulagiri  
भारत में हिमालय की सबसे ऊँची पर्वत चोटी कौन-सी है?  
(A) कंचनजंगा (B) मकालू  
(C) नंगा पर्वत (D) धौलगिरी
10. Which one from the following is the highest peak of the Aravalli mountain? [1]  
(A) Guru Shikhar (B) Mahendragiri  
(C) Anamudi (D) Doddabetta  
अरावली पर्वत की सबसे ऊँची चोटी कौन-सी है?  
(A) गुरु शिखर (B) महेन्द्रगिरी  
(C) अनाईमुडी (D) डोडाबेटा



11. Who amongst the following founded the 'Central Hindu College' in Varanasi in 1898 based on Theosophical Principles? [1]

- (A) Pandita Ramabai (B) Annie Besant  
(C) Justice Mahadev Govind Ranade (D) Swami Dayanand Saraswati
- निम्नलिखित में से किसने 1898 में थियोसोफिकल सिद्धान्तों के आधार पर वाराणसी में 'केन्द्रीय हिन्दु कॉलेज' की स्थापना की थी?

- (A) पंडिता रमाबाई (B) एनी बेसेंट  
(C) न्यायमूर्ति महादेव गोविंद रानाडे (D) स्वामी दयानन्द सरस्वती

12. Which of the following is the India's position in the world in terms of size? [1]

- (A) Seventh (B) Eight  
(C) Fifth (D) Ninth

क्षेत्रफल के अनुसार भारत का विश्व में निम्नलिखित में से कौन-सा स्थान है?

- (A) सातवाँ (B) आठवाँ  
(C) पाचवाँ (D) नौवाँ

13. What is the total area of India in lakh square kilometers? [1]

- (A) 42.87 lakh square kilometers (B) 32.87 lakh square kilometers  
(C) 52.87 lakh square kilometers (D) 22.87 lakh square kilometers

भारत का कुल क्षेत्रफल लाख वर्ग किलोमीटर में कितना है?

- (A) 42.87 लाख वर्ग किलोमीटर (B) 32.87 लाख वर्ग किलोमीटर  
(C) 52.87 लाख वर्ग किलोमीटर (D) 22.87 लाख वर्ग किलोमीटर

14. Which one of the following is the largest river in the Indian Desert? [1]

- (A) Godavari (B) Krishna  
(C) Luni (D) Tapti

निम्नलिखित में से कौन-सी नदी भारतीय रेगिस्तान में सबसे बड़ी नदी है?

- (A) गोदावरी (B) कृष्णा  
(C) लूनी (D) ताप्ती

15. Which one of the following rivers is not a tributary of Ganga? [1]

- (A) Yamuna (B) Ghaghara  
(C) Gomti (D) Dibang

निम्नलिखित में से कौन-सी नदी गंगा की सहायक नदी नहीं है?

- (A) यमुना (B) घाघरा  
(C) गोमती (D) दिबांग



16. The hot and dry wind blowing in the northern plain in the summer are called \_\_\_\_\_ [1]

- (A) Kal Baisakhi  
(C) Loo

- (B) Trade winds  
(D) Mango shower

ग्रीष्म ऋतु में उत्तरी मैदान में चलने वाली गर्म और शुष्क वायु कहलाती है \_\_\_\_\_

- (A) काल बैशाखी  
(C) लू

- (B) व्यापारिक पवनें  
(D) आम वर्षा

17. Who amongst the following leaders is related with the 'Narmada Bachao Andolan'? [1]

- (A) Aruna Roy  
(C) Anna Hazare

- (B) Medha Patkar  
(D) Ela Bhatt

निम्नलिखित में से कौन-सा नेता नर्मदा बचाओ आन्दोलन से संबंधित है?

- (A) अरूणा राय  
(C) अन्ना हजारे

- (B) मेधा पाटकर  
(D) इला भट्ट

18. Which one of the following political parties played a leading role in India's struggle for freedom? [1]

- (A) The Bharatiya Janata Party  
(C) The Indian National Congress

- (B) The Rashtriya Janata Dal  
(D) Nationalist Congress Party

निम्नलिखित में से किस एक राजनीतिक दल ने भारत के स्वतन्त्रता संग्राम में अग्रणी भूमिका निभाई?

- (A) भारतीय जनता पार्टी  
(C) भारतीय राष्ट्रीय कांग्रेस

- (B) राष्ट्रीय जनता दल  
(D) राष्ट्रवादी कांग्रेस पार्टी

19. Identify the name of the programme launched by the Indian government for achieving the goal of Universalisation of elementary education from the following : [1]

- (A) Total Literacy campaign  
(C) Sarva Shiksha Abhiyan

- (B) Education Mission  
(D) Beti Padao - Beti Bachao

निम्नलिखित में से प्राथमिक शिक्षा के सार्वभौमिकरण के लक्ष्य को प्राप्त करने के लिए भारत सरकार द्वारा शुरू किए गए कार्यक्रम की पहचान कीजिए।

- (A) सम्पूर्ण साक्षरता अभियान  
(C) सर्व-शिक्षा अभियान

- (B) शिक्षा मिशन  
(D) बेटी पढ़ाओ-बेटी बचाओ



20. In which of the following chapters of the Indian Constitution the concept of peace and security is mentioned in detail? [1]

- (A) Amendments of the Constitution  
(B) Trade and Commerce  
(C) Fundamental Rights  
(D) Directive Principles of the State Policy

भारतीय संविधान के निम्नलिखित में से किस अध्याय में 'शांति और सुरक्षा' की अवधारणा का विस्तार से उल्लेख किया गया है?

- (A) संवैधानिक संशोधन  
(B) व्यापार और वाणिज्य  
(C) मौलिक अधिकार  
(D) राज्य के नीति-निर्देशक तत्व

21. Complete the following sentence : [2×1]

In \_\_\_\_\_ a law was passed which made sati illegal and punishable \_\_\_\_\_ made efforts to advocate widow remarriage and condemned child marriage.

निम्नलिखित वाक्यों को पूरा कीजिए :

\_\_\_\_\_ में एक कानून पारित किया गया जिसमें सती प्रथा को अवैध और दंडनीय माना गया \_\_\_\_\_ ने बाल विवाह, विधवा पुनर्विवाह के लिए प्रयास किए।

22. Fill in the blanks : [2×1]

- a) Mohan Das Karamchand Gandhi was a lawyer, trained in Britain. He went to \_\_\_\_\_ in 1893.  
b) In 1927, British Government appointed a Commission under the Chairmanship of \_\_\_\_\_.

रिक्त स्थानों की पूर्ति कीजिए :

- a) मोहनदास करमचन्द गाँधी एक ब्रिटेन से प्रशिक्षित वकील थे। वे 1893 में \_\_\_\_\_ गये।  
b) 1927 में ब्रिटिश सरकार ने \_\_\_\_\_ की अध्यक्षता में एक कमीशन नियुक्त किया।

23. True or False : [2×1]

- a) The first great Renaissance sculptor was Donatello who made the statue 'David'.  
b) Martin Luther's views started the 'Protestant Reformation' in the west and it divided the Christian world into three.

सत्य या असत्य :

- a) पुनर्जागरण के प्रथम महान मूर्तिकार डोनाटलो थे जिन्होंने 'डेविड' की मूर्ति बनाई थी।  
b) मार्टिन लूथर के विचारों ने पश्चिम में 'प्रोटेस्टेंट धर्म सुधार' की शुरुआत की और ईसाई जगत को तीन भागों में बाँट दिया।



24. Match the Column A with Column B correctly.

[4×½]

<u>Column A</u> (International Events)	<u>Column B</u> (Years)
A) Formation of League of Nations	i) 1945
B) Starting of First World War	ii) 1939
C) Starting of Second World War	iii) 1920
D) Formation of United Nations Organisation	iv) 1914 v) 1915

स्तम्भ A का सही मिलान स्तम्भ B से कीजिए।

<u>स्तम्भ A</u> (अन्तर्राष्ट्रीय घटनाएँ)	<u>स्तम्भ B</u> (वर्ष)
A) लीग ऑफ नेशंस की स्थापना	i) 1945
B) प्रथम विश्व युद्ध की शुरुआत	ii) 1939
C) द्वितीय विश्व युद्ध की शुरुआत	iii) 1920
D) संयुक्त राष्ट्र की स्थापना	iv) 1914 v) 1915

25. Match the Column A with Column B correctly.

[4×½]

<u>Column A</u> (National Events)	<u>Column B</u> (Years)
A) Establishment of Sabarmati Ashram	i) 1919
B) Starting of Non-Cooperation Movement	ii) 1942
C) Formation of The Indian Independence League	iii) 1920
D) Event of Jallianwala Bagh (Amritsar)	iv) 1916 v) 1932

स्तम्भ A का सही मिलान स्तम्भ B से कीजिए।

<u>स्तम्भ A</u> (राष्ट्रीय घटनाएँ)	<u>स्तम्भ B</u> (वर्ष)
A) साबरमती आश्रम की स्थापना	i) 1919
B) असहयोग आन्दोलन की शुरुआत	ii) 1942
C) इंडियन इंडिपेंडेंस लीग की स्थापना	iii) 1920
D) जलियाँवाला बाग की घटना (अमृतसर)	iv) 1916 v) 1932





31. Fill in the blanks :

[2×1]

- a) The \_\_\_\_\_ is the supreme legislative body of India.  
b) Lok Sabha is presided over by the \_\_\_\_\_.

रिक्त स्थानों की पूर्ति कीजिए :

- a) \_\_\_\_\_ भारत के विधायी कार्यों की सर्वोच्च संस्था है।  
b) लोकसभा की अध्यक्षता \_\_\_\_\_ द्वारा की जाती है।

32. Complete the following sentence with the help of suitable words : [2×1]

The High Court is a \_\_\_\_\_ hence, all the subordinate courts follow the Judgement of the High Court. High Court may also punish for \_\_\_\_\_ of the court.

उपयुक्त शब्दों की सहायता से निम्नलिखित वाक्य को पूरा कीजिए :

उच्च न्यायालय एक \_\_\_\_\_ है। अतः सभी अधीनस्थ न्यायालय इसके फैसलों का अनुसरण करते हैं। उच्च न्यायालय अपनी \_\_\_\_\_ के लिए दण्ड भी दे सकता है।

33. Complete the following sentence with the help of suitable words : [2×1]

Rajya Sabha is the \_\_\_\_\_ of Parliament. The maximum number of members of this house cannot exceed \_\_\_\_\_.

उपयुक्त शब्दों की सहायता से निम्नलिखित वाक्य को पूरा कीजिए :

राज्यसभा संसद का \_\_\_\_\_ है। इसके सदस्यों की संख्या \_\_\_\_\_ से अधिक नहीं हो सकती।

34. Complete the following sentence with the help of suitable words : [2×1]

Lok Sabha is elected \_\_\_\_\_ and true representative of the people of India. Rajya Sabha on the other hand is \_\_\_\_\_ elected.

उपयुक्त शब्दों की सहायता से निम्नलिखित वाक्य को पूरा कीजिए :

लोकसभा का निर्वाचन \_\_\_\_\_ होता है तथा यह भारत के लोगों की सच्ची प्रतिनिधि सभा है। दूसरी ओर राज्यसभा का निर्वाचन \_\_\_\_\_ होता है।

35. True or False :

[2×1]

a) The Election Commission of India grants election symbols to the political parties and the candidates who contest elections.

b) Indian National Lok Dal is a regional political party in Jammu & Kashmir.

सत्य या असत्य :

a) भारत का निर्वाचन आयोग राजनीतिक दलों के चुनाव लड़ने वाले उम्मीदवारों को दल का चुनाव चिन्ह प्रदान करता है।

b) भारतीय राष्ट्रीय लोक दल जम्मू एवं कश्मीर का क्षेत्रीय राजनीतिक दल है।



## SECTION-B

### खण्ड - 'ब'

36. How did British exploit the peasants of India during the Colonial Period? Explain. [2]  
औपनिवेशिक काल में अंग्रेजों ने भारत के किसानों का शोषण किस प्रकार किया? स्पष्ट कीजिए।
37. What were the Economic causes of the revolt 1857? Explain any two. [2]  
1857 के विद्रोह के दो आर्थिक कारणों को स्पष्ट कीजिए।  
OR/अथवा  
Why was Simon Commission boycotted by Indians? Explain any two reasons.  
साइमन कमीशन का भारतीयों ने बहिष्कार क्यों किया? किन्हीं दो कारणों की व्याख्या कीजिए।
38. Explain the importance of waterways for India. [2]  
भारत के लिए जल मार्गों के महत्त्व की व्याख्या कीजिए।
39. Describe the method of the composition of the State Legislative Council. [2]  
विधान परिषद की संरचना की विधि का वर्णन कीजिए।  
OR/अथवा  
What are the qualifications to be appointed as the Judge of the High Court? Explain.  
उच्च न्यायालय के न्यायाधीश के रूप में नियुक्त होने की योग्यता क्या है? स्पष्ट कीजिए।
40. How are Pressure Groups different from the Political Parties? Explain. [2]  
दबाव समूह किस प्रकार राजनीतिक दलों से भिन्न हैं? स्पष्ट कीजिए।
41. Explain the meaning of Socio-economic Development of a country. [2]  
किसी देश के सामाजिक-आर्थिक विकास के अर्थ को स्पष्ट कीजिए।  
OR/अथवा  
How is the concept of human development different from the traditional concept of social and economic development?  
मानव विकास की अवधारणा पारम्परिक सामाजिक-आर्थिक विकास की अवधारणा से किस प्रकार भिन्न है?
42. Describe any two features of Feudalism. [3]  
सामंतवाद की किन्हीं दो विशेषताओं का वर्णन कीजिए।



43. Explain any three characteristic of the Indian Monsoon. [3]

भारतीय मानसून की तीन प्रमुख विशेषताओं की व्याख्या कीजिए।

OR/अथवा

Explain any three characteristic of Northern Plain of India.

भारत के उत्तरी मैदान की किन्हीं तीन विशेषताओं का वर्णन कीजिए।

44. Explain three main provisions of the Right to Freedom of Religion as mentioned in the Indian constitution. [3]

भारतीय संविधान में वर्णित 'धार्मिक स्वतन्त्रता के अधिकार' के तीन मुख्य प्रावधानों की व्याख्या कीजिए।

OR/अथवा

"The Right to constitutional remedies is the most Important Fundamental Right". Explain this statement in three points.

"संवैधानिक उपचारों का अधिकार सबसे प्रमुख मूल अधिकार है।" इस कथन की तीन बिन्दुओं में व्याख्या कीजिए।

45. Suggest any three ways to strengthen Indian democracy. [3]

भारतीय लोकतंत्र को मजबूत बनाने के लिए किन्हीं तीन तरीकों को सुझाइये।

46. Examine the significance of sustainable development. [3]

संधारणीय विकास के महत्त्व की परख कीजिए।

OR/अथवा

Examine any three factors that provide sound base for national integration.

राष्ट्रीय समाकलन को ठोस आधार प्रदान करने वाले किन्हीं तीन कारकों की परख कीजिए।

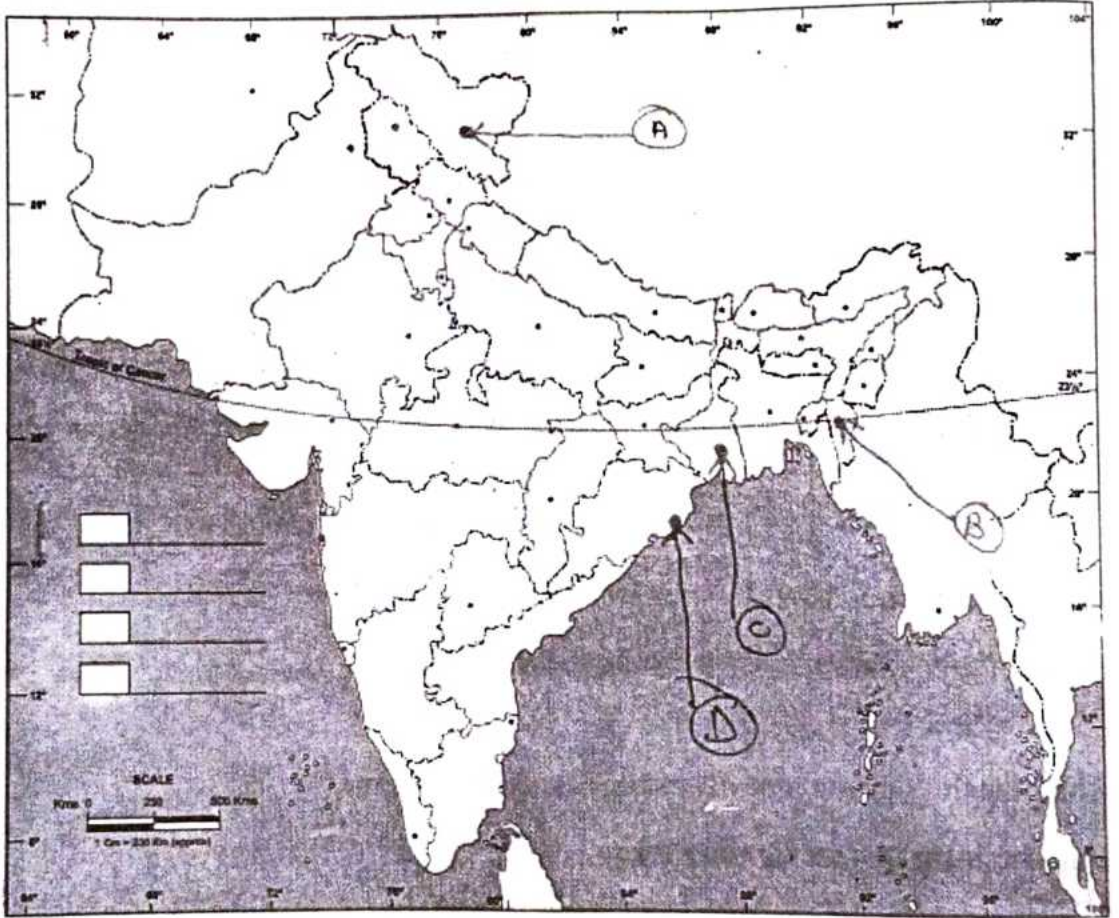
47. Explain any three measure for Social Empowerment. [3]

सामाजिक सशक्तिकरण के किन्हीं तीन उपायों का वर्णन कीजिए।



48. The following four places related to the transportation facilities in India are marked as A, B, C and D on the given political outline map of India. Identify these places with the help of the following information and write their correct names on answer book. [4×1]

भारत के दिए गये राजनीतिक रेखा मानचित्र पर भारत में परिवहन सुविधाओं से संबंधित निम्नलिखित चार स्थानों को A, B, C और D के रूप में चिह्नित किया गया है। निम्नलिखित जानकारी की सहायता से इन स्थानों को पहचानें और उत्तर पुस्तिका में उनके सही नाम लिखिए।



- (A) The Northernmost terminal station of the North-South Corridor  
 (B) The Easternmost terminal station of the Golden Quadrilateral  
 (C) An International airport situated in West Bengal  
 (D) A major port situated in Odisha.  
 (A) उत्तर-दक्षिण गलियारे का सबसे उत्तर का टर्मिनल स्टेशन।  
 (B) स्वर्णिम चतुर्भुज का सबसे पूर्व का टर्मिनल स्टेशन।  
 (C) पश्चिम बंगाल में स्थित एक अन्तर्राष्ट्रीय हवाई अड्डा।  
 (D) ओडिशा में स्थित एक प्रमुख बन्दरगाह।



Note : Following questions are for the Visually Impaired Candidates only in lieu of Q. No. 48.

48. (A) Name the Northernmost terminal station of North-South Corridor  
(B) The Easternmost terminal station of Golden Quadrilateral  
(C) Name the place where an International airport situated in West Bengal  
(D) Name the place where a major port situated in Odisha

नोट : निम्नलिखित प्रश्न केवल दृष्टिबाधित परीक्षार्थियों के लिए प्रश्न संख्या 48 के स्थान पर हैं।

- (A) उत्तर-दक्षिण गलियारे का सबसे उत्तर में स्थित टर्मिनल स्टेशन का नाम लिखिए।  
(B) स्वर्णिम चतुर्भुज का सबसे पूर्वी टर्मिनल स्टेशन का नाम लिखिए।  
(C) उस स्थान का नाम लिखिए जहाँ पश्चिम बंगाल में एक अन्तर्राष्ट्रीय हवाई अड्डा स्थित है।  
(D) उस स्थान का नाम लिखिए जहाँ ओडिशा में एक प्रमुख बन्दरगाह स्थित है।

49. In the given political outline map of India mark and label the following with appropriate symbols. [4]

- (A) Rajiv Gandhi International Airport  
(B) A major port situated in Andhra Pradesh  
(C) The Vindhyaachal Parvat  
(D) The Westernmost terminal station of Golden Quadrilateral

भारत के दिए गए राजनीतिक रेखा मानचित्र पर निम्नलिखित को उपयुक्त चिहनों द्वारा अंकित कीजिए और उनके नाम लिखिए।

- (A) राजीव गाँधी अन्तर्राष्ट्रीय हवाई अड्डा।  
(B) आन्ध्र प्रदेश में स्थित एक प्रमुख बन्दरगाह।  
(C) विन्ध्याचल पर्वत  
(D) स्वर्णिम चतुर्भुज का सबसे पश्चिम का टर्मिनल स्टेशन

Note : Following questions are for the Visually Impaired Candidates only in lieu of Q. No. 49.

49. (A) Write the name of the place where Rajiv Gandhi International Airport is situated.  
(B) Write the name of the major port situated in Andhra Pradesh.  
(C) Where is Vindhyaachal Parvat situated.  
(D) Name the Westernmost terminal station of Golden Quadrilateral.

नोट : निम्नलिखित प्रश्न केवल दृष्टिबाधित परीक्षार्थियों के लिए प्रश्न संख्या 49 के स्थान पर हैं।

- (A) उस स्थान का नाम लिखें जहाँ राजीव गाँधी अन्तर्राष्ट्रीय हवाई अड्डा स्थित है।  
(B) आन्ध्र प्रदेश में स्थित प्रमुख बन्दरगाह का नाम लिखिए।  
(C) विन्ध्याचल पर्वत कहाँ स्थित है।  
(D) स्वर्णिम चतुर्भुज के सबसे पश्चिमी टर्मिनल स्टेशन का नाम लिखिए।



50. How did the political and socio-religious factors lead to the Revolt of 1857? Explain. [6]

किस प्रकार राजनीतिक और सामाजिक-धार्मिक कारक 1857 के विद्रोह का कारण बने? स्पष्ट कीजिए।

OR/अथवा

Explain the hindrances in the growth of Women's education in the 19<sup>th</sup> century? Explain any six.

19 वीं सदी में भारत में महिलाओं की शिक्षा के विकास में कौन-सी बाधाएँ आयी? किन्हीं छः का वर्णन कीजिए।

51. What are the fundamental duties enlisted in the constitution of India? Explain any six. [6]

संविधान द्वारा दिए गये भारतीय नागरिक के मौलिक कर्तव्य कौन-से हैं? किन्हीं छः का वर्णन कीजिए।

OR/अथवा

Describe the dominant features of the India's party system.

भारतीय दलीय प्रणाली की प्रमुख विशेषताओं का वर्णन कीजिए।



Q. No. 49  
प्र. संख्या 49

Roll No.  
अनुक्रमांक

--	--	--	--	--	--	--	--	--	--	--	--	--	--	--	--	--	--	--	--

भारत का रेखा-मानचित्र (राजनीतिक)  
Outline Map of India (Political)

